

**ПРОЕКТ**

**Государственная итоговая аттестация по образовательным программам основного общего образования в форме основного государственного экзамена (ОГЭ)**

**Демонстрационный вариант контрольных измерительных материалов для проведения в 2020 году основного государственного экзамена по БИОЛОГИИ**

подготовлен Федеральным государственным бюджетным научным учреждением  
«ФЕДЕРАЛЬНЫЙ ИНСТИТУТ ПЕДАГОГИЧЕСКИХ ИЗМЕРЕНИЙ»

**Демонстрационный вариант контрольных измерительных материалов для проведения в 2020 году основного государственного экзамена по БИОЛОГИИ**

**Пояснения к демонстрационному варианту КИМ**

При ознакомлении с демонстрационным вариантом 2020 г. следует иметь в виду, что задания, включённые в демонстрационный вариант, не отражают всех вопросов содержания, которые будут проверяться с помощью вариантов КИМ в 2020 г. Полный перечень элементов содержания, которые могут контролироваться на экзамене 2020 г., приведён в кодификаторе элементов содержания и требований к уровню подготовки обучающихся для проведения основного государственного экзамена, размещенном на сайте: [www.fipi.ru](http://www.fipi.ru).

Демонстрационный вариант предназначен для того, чтобы дать возможность любому участнику экзамена и широкой общественности составить представление о структуре будущей экзаменационной работы, количестве и форме заданий, а также об их уровне сложности. Приведённые критерии оценивания выполнения заданий с развёрнутым ответом, включённые в этот вариант, позволят составить представление о требованиях к полноте и правильности записи развёрнутого ответа.

Эти сведения дают выпускникам возможность выработать стратегию подготовки к сдаче экзамена по биологии.

**Демонстрационный вариант 2020 года****Инструкция по выполнению работы**

Экзаменационная работа состоит из двух частей, включающих в себя 30 заданий. Часть 1 содержит 26 заданий с кратким ответом, часть 2 содержит 4 задания с развёрнутым ответом.

На выполнение экзаменационной работы по биологии даётся 3 часа (180 минут).

Ответом к заданию 1 является слово (словосочетание). Ответ запишите в поле ответа в тексте работы, а затем перенесите в бланк ответов № 1.

Ответы к заданиям 2–19 записываются в виде одной цифры, которая соответствует номеру правильного ответа. Эту цифру запишите в поле ответа в тексте работы, а затем перенесите в бланк ответов № 1.

Ответы к заданиям 20–26 записываются в виде последовательности цифр. Ответ запишите в поле ответа в тексте работы, а затем перенесите в бланк ответов № 1 без пробелов, запятых и других дополнительных символов.

К заданиям 27–30 следует дать развёрнутый ответ. Задания выполняются на бланке ответов № 2.

Все бланки заполняются яркими чернилами. Допускается использование гелевой или капиллярной ручки.

На экзамене по биологии разрешается использовать линейку и непрограммируемый калькулятор.

При выполнении заданий можно пользоваться черновиком. **Записи в черновике, а также в тексте контрольных измерительных материалов не учитываются при оценивании работы.**

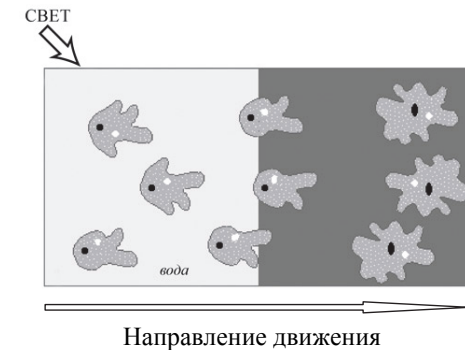
Баллы, полученные Вами за выполнение задания, суммируются. Постарайтесь выполнить как можно больше заданий и набрать наибольшее количество баллов.

После завершения работы проверьте, чтобы ответ на каждое задание в бланках ответов № 1 и № 2 был записан под правильным номером.

***Желаем успеха!***

**Ответом к заданию 1 является слово (словосочетание). Ответом к заданиям 2–19 является одна цифра, которая соответствует номеру правильного ответа. Это слово (словосочетание) или эту цифру запишите в поле ответа в тексте работы, а затем перенесите в БЛАНК ОТВЕТОВ № 1 справа от номера соответствующего задания, начиная с первой клеточки.**

- 1** В изображённом на рисунке опыте экспериментатор осветил под микроскопом часть капли воды с живыми амёбами. Через некоторое время все простейшие стали двигаться в одном направлении.



Какое свойство живого на примере амёбы иллюстрирует данный опыт?

Ответ: \_\_\_\_\_

- 2** Сущность клеточной теории отражена в следующем положении:

- 1) из клеток состоят только животные и растения
- 2) клетки всех организмов близки по своим функциям
- 3) все организмы состоят из клеток
- 4) клетки всех организмов имеют ядро

Ответ:

3 Плесневые грибы человек использует при

- 1) выпечке хлеба
- 2) силосовании кормов
- 3) получении сыров
- 4) приготовлении столового вина

Ответ:

4 У покрытосеменных растений, в отличие от голосеменных,

- 1) тело составляют органы и ткани
- 2) оплодотворение происходит при наличии воды
- 3) в семени формируется зародыш
- 4) осуществляется двойное оплодотворение

Ответ:

5 Поступление кислорода в тело гидры происходит через

- 1) жаберные щели
- 2) дыхальца
- 3) стрекательные клетки щупалец
- 4) всю поверхность тела

Ответ:

6 Что отличает человекообразную обезьяну от человека?

- 1) строение передних конечностей
- 2) уровень обмена веществ
- 3) общий план строения
- 4) наличие заботы о потомстве

Ответ:

7 Нервные узлы в нервной системе человека относят к её

- 1) периферическому отделу
- 2) центральному отделу
- 3) коре больших полушарий
- 4) подкорковым ядрам

Ответ:

8 Какой сустав человека изображён на рентгеновском снимке?

- 1) тазобедренный
- 2) коленный
- 3) плечевой
- 4) локтевой



Ответ:

9 До применения вакцины многие дети в нашей стране болели коклюшем. Какой иммунитет возникает после перенесения ребёнком этого инфекционного заболевания?

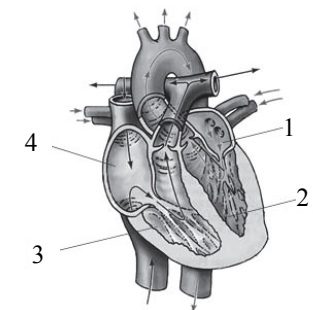
- 1) естественный врождённый
- 2) естественный приобретённый
- 3) искусственный активный
- 4) искусственный пассивный

Ответ:

10 На рисунке изображена схема строения сердца человека. Какой цифрой на ней обозначено правое предсердие?

- 1) 1
- 2) 2
- 3) 3
- 4) 4

Ответ:



**11** Какую функцию выполняют кишечные ворсинки в пищеварительном канале человека?

- 1) участвуют в образовании водорастворимых витаминов
- 2) повышают скорость продвижения пищи во время переваривания
- 3) нейтрализуют поступающие с пищей вредные вещества
- 4) увеличивают поверхность соприкосновения пищи со стенкой кишечника


Ответ:

**12** Какую функцию выполняет пигмент меланин, образующийся в коже человека?

- 1) защищает организм от ультрафиолетового излучения
- 2) служит резервным питательным веществом для клеток
- 3) способствует сохранению тепла организмом
- 4) укрепляет клетки кожи

Ответ:

**13** Где расположены рецепторы, позволяющие изображённому на рисунке гимнасту выполнять данные упражнения?



- 1) полукружные каналы
- 2) гипоталамус
- 3) кожа
- 4) улитка

Ответ:

**14** Великий русский учёный XIX в. И.М. Сеченов сказал, что: «Человек без ... остался бы вечно в положении новорождённого». Какой термин из предложенных следует поставить на место пропуска?

- 1) характер
- 2) память
- 3) эмоция
- 4) потребность

Ответ:

**15** Если кровь из раны вытекает пульсирующей струёй и имеет ярко-алый цвет, то кровотечение у пострадавшего

- 1) венозное, и достаточно наложить тугую повязку
- 2) артериальное, и достаточно наложить тугую повязку
- 3) артериальное, и необходимо наложить жгут
- 4) венозное, и необходимо наложить жгут

Ответ:

**16** Какова роль разрушителей в экологических сообществах?

- 1) обеспечивают производителей минеральным питанием
- 2) синтезируют глюкозу из неорганических веществ
- 3) поедают живые растительные организмы
- 4) служат дополнительным источником энергии для агроценозов

Ответ:

**17** На рисунке изображён отпечаток археоптерикса. Многие учёные считают его ископаемой переходной формой между древними

- 1) птицами и млекопитающими
- 2) пресмыкающимися и птицами
- 3) пресмыкающимися и млекопитающими
- 4) земноводными и птицами

Ответ:



- 18 Между структурами клетки и процессами, указанными в столбцах приведённой ниже таблицы, имеется определённая связь.

Структура клетки	Процесс
Цитоплазматическая мембрана	Транспорт веществ
...	Синтез белков

Какой термин следует вписать на место пропуска в этой таблице?

- 1) лизосома
- 2) вакуоль
- 3) рибосома
- 4) клеточный центр

Ответ:

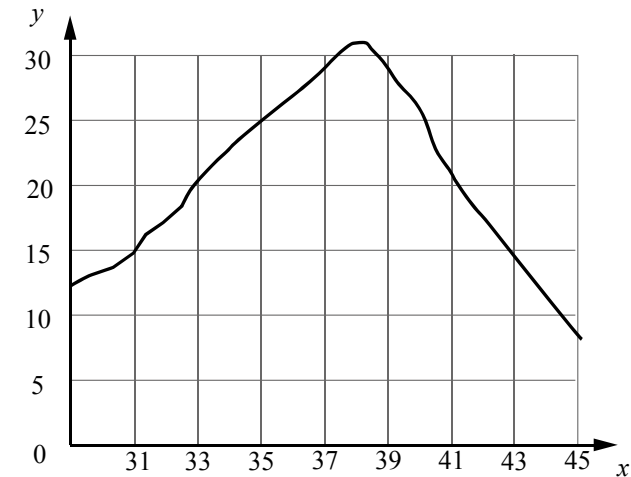
- 19 Верны ли следующие суждения о цепях питания?

- А. При переходе с одного трофического уровня на другой количество энергии увеличивается.  
 Б. Цепи питания могут начинаться с органических остатков.
- 1) верно только А
  - 2) верно только Б
  - 3) верны оба суждения
  - 4) оба суждения неверны

Ответ:

*Ответом к заданиям 20–26 является последовательность цифр. Ответы запишите в поля ответов в тексте работы, а затем перенесите в БЛАНК ОТВЕТОВ № 1 справа от номеров соответствующих заданий, начиная с первой клеточки, без пробелов, запятых и других дополнительных символов. Каждую цифру пишите в отдельной клеточке в соответствии с приведёнными в бланке образцами.*

- 20 Изучите график зависимости скорости ферментативных реакций в холоднокровном организме от температуры (по оси  $x$  отложена температура организма (в °C), а по оси  $y$  – относительная скорость химической реакции (в усл. ед.)).



Какие два из приведённых ниже описаний наиболее точно характеризуют данную зависимость в указанном диапазоне температур?

Скорость ферментативных реакции в холоднокровном организме

- 1) с повышением его температуры резко снижается, достигая своего минимального значения, после чего возрастает
- 2) с повышением его температуры непрерывно медленно растёт
- 3) имеет минимальное значение в интервале 20–25 условных единиц
- 4) с повышением его температуры растёт, достигая своего максимального значения, после чего снижается
- 5) достигает максимума при его температуре в пределах 37–39 °C

Ответ:

**21** Что из перечисленного может стать причиной заражения ВИЧ (возникновения СПИДа)?

Выберите три верных ответа из шести и запишите в таблицу цифры, под которыми они указаны.

- 1) пользование общественным туалетом
- 2) поцелуй в щёку зараженного ВИЧ
- 3) беседа с больным СПИДом
- 4) посещение маникюрного салона
- 5) прокалывание ушей
- 6) нанесение татуировки

Ответ:

--	--	--

**22** Известно, что **пырей ползучий** – многолетнее сорное растение с хорошо развитым корневищем.

Используя эти сведения, выберите из приведённого ниже списка три утверждения, относящихся к описанию **данных** признаков этого растения. Запишите в таблицу цифры, соответствующие выбранным ответам.

- 1) Растение обитает на землях, используемых в качестве сельскохозяйственных угодий.
- 2) Питательные вещества пырей откладывает в хорошо развитые подземные побеги.
- 3) Предоставленная самой себе заросль пырея существует шесть-семь лет, затем постепенно изреживается и гибнет.
- 4) Растение служит кормом для домашнего скота.
- 5) Растение относят к семейству Злаковые (Мятликовые).
- 6) Сок свежих листьев используют для лечения простуды, бронхита и воспаления лёгких.

Ответ:

--	--	--

**23** Установите соответствие между признаками и классами животных, для которых эти признаки характерны: к каждому элементу первого столбца подберите соответствующий элемент из второго столбца.

ПРИЗНАКИ

КЛАССЫ

- |  |   |
|--|---|
| <p>А) У части представителей в развитии имеется стадия куколки.</p> <p>Б) Подавляющее большинство представителей – хищники.</p> <p>В) Тело животных состоит из головы, груди и брюшка.</p> <p>Г) Животные способны поглощать только жидкую пищу.</p> <p>Д) Животные имеют четыре пары ходильных ног.</p> <p>Е) На голове животных могут располагаться простые и сложные глаза.</p> | <p>1) Насекомые</p> <p>2) Паукообразные</p> |
|--|---|

Запишите в таблицу выбранные цифры под соответствующими буквами.

Ответ:

А	Б	В	Г	Д	Е

**24** Расположите в правильном порядке пункты инструкции по проращиванию семян. Запишите цифры, которыми обозначены пункты инструкции, в правильной последовательности в таблицу.

- 1) На влажную фильтровальную бумагу положите 10 семян огурцов.
- 2) Закройте тарелку полиэтиленовой плёнкой.
- 3) Смочите фильтровальную бумагу водой и следите, чтобы во время опыта она была постоянно влажной.
- 4) Через сутки обследуйте семена, результаты занесите в дневник наблюдений.
- 5) Возьмите тарелку и уложите на её дно сухую фильтровальную бумагу.
- 6) Поставьте закрытую тарелку в тёплое место.

Ответ:

--	--	--	--	--	--

- 25 Вставьте в текст «Размножение организмов» пропущенные слова из предложенного перечня, используя для этого цифровые обозначения. Запишите в текст цифры выбранных ответов, а затем получившуюся последовательность цифр (по тексту) впишите в приведённую ниже таблицу.

### РАЗМНОЖЕНИЕ ОРГАНИЗМОВ

В природе существует два способа размножения: \_\_\_\_\_(А) и \_\_\_\_\_(Б). Первый способ связан с \_\_\_\_\_(В), происходящим в результате слияния мужских и женских \_\_\_\_\_(Г). Биологическим значением второго способа является сохранение всей наследственной информации материнского организма у потомков.

#### Перечень слов:

- 1) вегетативное
- 2) митоз
- 3) половое
- 4) почкование
- 5) бесполое
- 6) оплодотворение
- 7) спора
- 8) гамета

Ответ:

А	Б	В	Г

- 26 Рассмотрите фотографию листа дуба черешчатого. Выберите характеристики, соответствующие его строению, по следующему плану: тип листа, жилкование листа, форма листа; тип листа по соотношению длины, ширины, расположению наиболее широкой части, форме края. При выполнении работы используйте линейку.



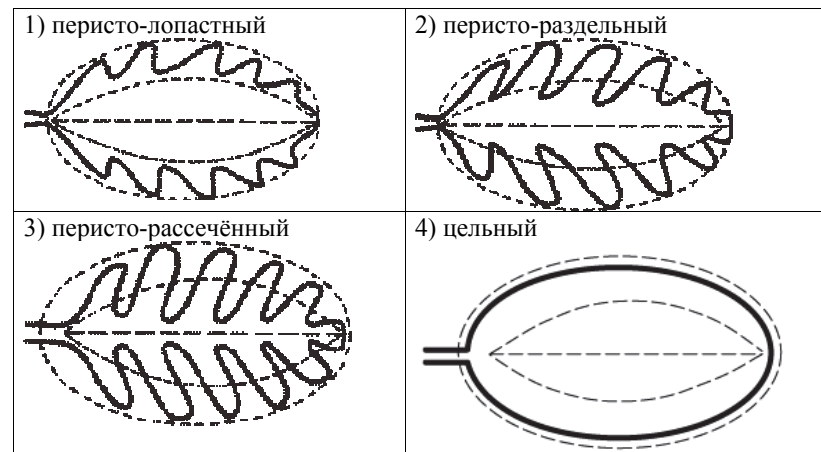
#### А. Тип листа

- 1) черешковый
- 2) сидячий

#### Б. Жилкование листа

- 1) параллельное
- 2) дуговидное
- 3) пальчатое
- 4) перистое

#### В. Форма листа



**Г. Тип листа по соотношению длины, ширины и расположению наиболее широкой части**

Длина превышает ширину в 1,5–2 раза.

1) яйцевидный	2) овальный	3) обратно-яйцевидный

Длина превышает ширину в 3–4 раза.

4) ланцетный	5) продолговатый	6) обратно-ланцетный

**Д. Форма края листа**

1) цельнокрайный	2) волнистый	3) пильчатый	4) двояко-пильчатый	5) лопастной

Запишите в таблицу выбранные цифры под соответствующими буквами.

Ответ:

А	Б	В	Г	Д



**Не забудьте перенести все ответы в бланк ответов № 1 в соответствии с инструкцией по выполнению работы. Проверьте, чтобы каждый ответ был записан в строке с номером соответствующего задания.**

**Часть 2**

**Для записи ответов на задания этой части (27–30) используйте БЛАНК ОТВЕТОВ № 2. Запишите сначала номер задания (27, 28 и т.д.), а затем развернутый ответ на него. Ответы записывайте чётко и разборчиво.**

27

Рассмотрите рисунок с изображением стопы человека. Как называют нарушение формы стопы, изображённое на рисунке под цифрой 2? Назовите одну из причин появления такого заболевания у человека.



**Прочитайте текст и выполните задание 28.**

**ПРОИСХОЖДЕНИЕ ЖИВЫХ СУЩЕСТВ**

В Средние века люди охотно верили в то, что гуси произошли от пихтовых деревьев, а ягнята рождаются из плодов дынного дерева. Начало этим представлениям, получившим название «Теория самозарождения», положил древнегреческий философ Аристотель.

В XVII в. Ф. Реди высказал предположение о том, что живое рождается только от живого и никакого самозарождения нет. С этой целью он провел эксперимент. В первые четыре банки исследователь положил по куску змеи, рыбы, угря и говядины и закрыл их марлей, чтобы сохранить доступ воздуха. Четыре другие аналогичные банки он заполнил такими же кусками мяса, но оставил их открытыми. В закрытые банки мухи попасть не могли. Через некоторое время в мясе, лежавшем в открытых (контрольных) сосудах, появились черви. В закрытых банках червей обнаружено не было.

В XIX в. серьёзный удар по теории самозарождения нанёс Л. Пастер, предположивший, что жизнь в питательные среды заносится вместе с воздухом в виде спор. Учёный сконструировал колбу с горлышком, похожим на лебединую шею, заполнил её мясным бульоном и прокипятил на спиртовке. После кипячения колба была оставлена на столе, и вся комнатная пыль и микробы, находящиеся в воздухе, легко проникая через отверстие горлышка внутрь, оседали на изгибе, не попадая в бульон. Содержимое колбы долго оставалось неизменным. Однако если сломать горлышко (учёный использовал контрольные колбы), то бульон быстро мутнел. Таким



образом, Пастер доказал, что жизнь не зарождается в бульоне, а приносится извне вместе с воздухом, содержащим споры грибов и бактерий. Следовательно, учёные, ставя свои опыты, опровергли один из важнейших аргументов сторонников теории самозарождения, которые считали, что воздух является тем «активным началом», которое обеспечивает возникновение живого из неживого.

**28** Используя содержание текста «Происхождение живых существ», ответьте на следующие вопросы.

- 1) Какое оборудование использовал в своём эксперименте Ф. Реди?
- 2) Чем условия эксперимента с контрольными банками отличались от условий в других сосудах?
- 3) Что было объектом исследования в опытах Л. Пастера?

**29** Пользуясь таблицей 1 «Сравнительный состав плазмы крови, первичной и вторичной мочи организма человека», а также используя знания из курса биологии, ответьте на следующие вопросы.

Таблица 1

**Сравнительный состав плазмы крови, первичной и вторичной мочи организма человека (в %)**

Составные вещества	Плазма крови	Первичная моча	Вторичная моча
Белки, жиры, гликоген	7–9	Отсутствуют	Отсутствуют
Глюкоза	0,1	0,1	Отсутствует
Натрий (в составе солей)	0,3	0,3	0,4
Хлор (в составе солей)	0,37	0,37	0,7
Калий (в составе солей)	0,02	0,02	0,15
Мочевина	0,03	0,03	2,0
Мочевая кислота	0,004	0,004	0,05

- 1) Концентрация какого неорганического вещества практически остаётся неизменной по мере превращения плазмы крови во вторичную мочу?
- 2) Какое вещество и почему отсутствует в составе вторичной мочи по сравнению с первичной?

**Рассмотрите таблицы 2, 3 и выполните задание 30.**

Таблица 2

**Суточные нормы питания и энергетическая потребность детей и подростков**

Возраст, лет	Белки, г/кг	Жиры, г/кг	Углеводы, г	Энергетическая потребность, ккал
7–10	2,3	1,7	330	2550
11–15	2,0	1,7	375	2900
Старше 16	1,9	1,0	475	3100

Таблица 3

**Таблица энергетической и пищевой ценности продукции школьной столовой**

Блюда	Белки, г	Жиры, г	Углеводы, г	Энергетическая ценность, ккал
Борщ из свежей капусты с картофелем (1 порция)	1,8	4,0	11,6	92,3
Суп молочный с макаронными изделиями (1 порция)	8,3	11,3	25,8	233,8
Мясные биточки (1 штука)	8,0	21,0	9,3	266,6
Котлета мясная рубленая (1 штука)	9,2	9,9	6,5	155,6
Гарнир из отварного риса (1 порция)	4,8	1,2	53,0	245,2
Гарнир из отварных макарон (1 порция)	5,4	4,3	38,7	218,9
Кисель (1 стакан)	0	0	19,6	80
Чай с сахаром – 2 чайные ложки (1 стакан)	0	0	14,0	68,0
Хлеб пшеничный (1 кусок)	2,0	0,6	7,2	64,2
Хлеб ржаной (1 кусок)	3,9	0,4	28,2	135,7

**30** В понедельник девятиклассник Василий посетил школьную столовую, где ему предложили на обед следующее меню: борщ из свежей капусты с картофелем, два мясных биточка с гарниром из отварных макарон, чай с сахаром и кусок ржаного хлеба. Используя данные таблиц 2 и 3, а также знания из курса биологии, ответьте на следующие вопросы.

- 1) Какова энергетическая ценность школьного обеда?
- 2) Какое ещё количество углеводов должно быть в пищевом рационе Василия в этот день, чтобы восполнить суточную потребность, если возраст подростка составляет 14 лет?
- 3) Каковы функции углеводов в организме человека? Назовите одну из таких функций.



**Проверьте, чтобы каждый ответ был записан рядом с номером соответствующего задания.**

### Система оценивания экзаменационной работы по биологии

#### Часть 1

За верное выполнение каждого из заданий 1–19 выставляется 1 балл, в другом случае – 0 баллов.

За верный ответ на каждое из заданий 20–25 выставляется 2 балла.

За ответ на задание 20 выставляется 1 балл, если в ответе указана одна любая цифра, представленная в эталоне ответа, и 0 баллов, если в ответе нет таких цифр. Если экзаменуемый указывает в ответе больше символов, чем в правильном ответе, то за каждый лишний символ снимается 1 балл (до 0 баллов включительно).

За ответ на задания 21 и 22 выставляется 1 балл, если в ответе указаны две любые цифры, представленные в эталоне ответа, и 0 баллов, если верно указана одна цифра или не указано ни одной. Если экзаменуемый указывает в ответе больше символов, чем в правильном ответе, то за каждый лишний символ снимается 1 балл (до 0 баллов включительно).

За ответ на задания 23 и 25 выставляется 1 балл, если допущена одна ошибка, и 0 баллов, если допущено две и более ошибки.

За ответ на задание 24 выставляется 1 балл, если на любых двух позициях ответа записан не тот символ, который представлен в эталоне ответа. Если ошибок больше, то ставится 0 баллов.

За полный верный ответ на задание 26 выставляется 3 балла; если на любой одной позиции ответа записан не тот символ, который представлен в эталоне ответа, выставляется 2 балла; если на любых двух позициях ответа записаны не те символы, которые представлены в эталоне ответа, выставляется 1 балл; и во всех других случаях – 0 баллов.

#### Ответы к заданиям

Номер задания	Правильный ответ	Номер задания	Правильный ответ
1	Раздражимость	14	2
2	3	15	3
3	3	16	1
4	4	17	2
5	4	18	3
6	1	19	2
7	1	20	45
8	3	21	456
9	2	22	123
10	4	23	121221
11	4	24	531264
12	1	25	3568
13	1	26	14125

## Часть 2

## Критерии оценивания заданий с развёрнутым ответом

- 27 Рассмотрите рисунок с изображением стопы человека. Как называют нарушение формы стопы, изображённое на рисунке под цифрой 2? Назовите одну из причин появления такого заболевания у человека.



Содержание верного ответа и указания к оцениванию	Баллы
<p>Правильный ответ должен содержать следующие <u>элементы</u>:</p> <p>1) нарушение формы стопы: плоскостопие;</p> <p>2) причина заболевания: неправильно подобранная обувь</p> <p><b>ИЛИ</b></p> <p>длительное хождение</p> <p><b>ИЛИ</b></p> <p>длительное стояние</p> <p><b>ИЛИ</b></p> <p>избыточная масса тела</p> <p><b>ИЛИ</b></p> <p>недостаток физической нагрузки</p> <p><b>ИЛИ</b></p> <p>генетическая предрасположенность</p> <p><i>(Допускается иная формулировка ответа, не искажающая его смысла.)</i></p>	
Правильно указано заболевание и приведена одна из причин	2
Правильно указано только заболевание, <b>ИЛИ</b> правильно приведена только одна из причин	1
Ответ неправильный	0
<i>Максимальный балл</i>	2

## ПРОИСХОЖДЕНИЕ ЖИВЫХ СУЩЕСТВ

В Средние века люди охотно верили в то, что гуси произошли от пихтовых деревьев, а ягнята рождаются из плодов дынного дерева. Начало этим представлениям, получившим название «Теория самозарождения», положил древнегреческий философ Аристотель.

В XVII в. Ф. Реди высказал предположение о том, что живое рождается только от живого и никакого самозарождения нет. С этой целью он провел эксперимент. В первые четыре банки исследователь положил по куску змеи, рыбы, угря и говядины и закрыл их марлей, чтобы сохранить доступ воздуха. Четыре другие аналогичные банки он заполнил такими же кусками мяса, но оставил их открытыми. В закрытые банки мухи попасть не могли. Через некоторое время в мясе, лежавшем в открытых (контрольных) сосудах, появились черви. В закрытых банках червей обнаружено не было.

В XIX в. серьёзный удар по теории самозарождения нанёс Л. Пастер, предположивший, что жизнь в питательные среды заносится вместе с воздухом в виде спор. Учёный сконструировал колбу с горлышком, похожим на лебединую шею, заполнил её мясным бульоном и прокипятил на спиртовке. После кипячения колба была оставлена на столе, и вся комнатная пыль и микробы, находящиеся в воздухе, легко проникая через отверстие горлышка внутрь, оседали на изгибе, не попадая в бульон. Содержимое колбы долго оставалось неизменным. Однако если сломать горлышко (учёный использовал контрольные колбы), то бульон быстро мутнел. Таким образом, Пастер доказал, что жизнь не зарождается в бульоне, а приносится извне вместе с воздухом, содержащим споры грибов и бактерий. Следовательно, учёные, ставя свои опыты, опровергли один из важнейших аргументов сторонников теории самозарождения, которые считали, что воздух является тем «активным началом», которое обеспечивает возникновение живого из неживого.

- 28 Используя содержание текста «Происхождение живых существ», ответьте на следующие вопросы.
- 1) Какое оборудование использовал в своём эксперименте Ф. Реди?
  - 2) Чем условия эксперимента с контрольными банками отличались от условий в других сосудах?
  - 3) Что было объектом исследования в опытах Л. Пастера?

Содержание верного ответа и указания по оцениванию	Баллы
Правильный ответ должен содержать следующие <u>элементы</u> : 1) 8 банок, марля <b>ИЛИ</b> банки и марля; 2) контрольные банки (сосуды) не были закрыты марлей; 3) невидимые глазом микроорганизмы (споры грибов и бактерии) (Допускаются иные формулировки ответа, не искажающие его смысла.)	
Ответ включает в себя все названные выше элементы, не содержит биологических ошибок	3
Ответ включает в себя два из названных выше элементов и не содержит биологических ошибок, <b>ИЛИ</b> ответ включает в себя три названных выше элемента, но содержит биологические ошибки	2
Ответ включает в себя один из названных выше элементов и не содержит биологических ошибок, <b>ИЛИ</b> ответ включает в себя два из названных выше элементов, но содержит биологические ошибки	1
Ответ неправильный	0
<i>Максимальный балл</i>	3

- 29** Пользуясь таблицей 1 «Сравнительный состав плазмы крови, первичной и вторичной мочи организма человека», а также используя знания из курса биологии, ответьте на следующие вопросы.

Таблица 1

**Сравнительный состав плазмы крови, первичной и вторичной мочи организма человека (в %)**

Составные вещества	Плазма крови	Первичная моча	Вторичная моча
Белки, жиры, гликоген	7–9	Отсутствуют	Отсутствуют
Глюкоза	0,1	0,1	Отсутствует
Натрий (в составе солей)	0,3	0,3	0,4
Хлор (в составе солей)	0,37	0,37	0,7
Калий (в составе солей)	0,02	0,02	0,15
Мочевина	0,03	0,03	2,0
Мочевая кислота	0,004	0,004	0,05

- 1) Концентрация какого неорганического вещества практически остаётся неизменной по мере превращения плазмы крови во вторичную мочу?  
2) Какое вещество и почему отсутствует в составе вторичной мочи по сравнению с первичной?

Содержание верного ответа и указания по оцениванию	Баллы
Правильный ответ должен содержать следующие <u>элементы</u> : 1) натрия (натрия в ставе солей); 2) глюкоза; 3) в извитых каналах нефронов глюкоза активно всасывается в кровь (Допускаются иные формулировки ответа, не искажающие его смысла.)	
Ответ включает в себя все названные выше элементы, не содержит биологических ошибок	3
Ответ включает в себя два из названных выше элементов и не содержит биологических ошибок, <b>ИЛИ</b> ответ включает в себя три названных выше элемента, но содержит биологические ошибки	2
Ответ включает в себя один из названных выше элементов и не содержит биологических ошибок, <b>ИЛИ</b> ответ включает в себя два из названных выше элементов, но содержит биологические ошибки	1
Ответ неправильный	0
<i>Максимальный балл</i>	3

Таблица 2

**Суточные нормы питания и энергетическая потребность  
детей и подростков**

Возраст, лет	Белки, г/кг	Жиры, г/кг	Углеводы, г	Энергетическая потребность, ккал
7–10	2,3	1,7	330	2550
11–15	2,0	1,7	375	2900
Старше 16	1,9	1,0	475	3100

Таблица 3

**Таблица энергетической и пищевой ценности продукции  
школьной столовой**

Блюда	Белки, г	Жиры, г	Углеводы, г	Энергетическая ценность, ккал
Борщ из свежей капусты с картофелем (1 порция)	1,8	4,0	11,6	92,3
Суп молочный с макаронными изделиями (1 порция)	8,3	11,3	25,8	233,8
Мясные биточки (1 штука)	8,0	21,0	9,3	266,6
Котлета мясная рубленая (1 штука)	9,2	9,9	6,5	155,6
Гарнир из отварного риса (1 порция)	4,8	1,2	53,0	245,2
Гарнир из отварных макарон (1 порция)	5,4	4,3	38,7	218,9
Кисель (1 стакан)	0	0	19,6	80
Чай с сахаром – 2 чайные ложки (1 стакан)	0	0	14,0	68,0
Хлеб пшеничный (1 кусок)	2,0	0,6	7,2	64,2
Хлеб ржаной (1 кусок)	3,9	0,4	28,2	135,7

30

В понедельник девятиклассник Василий посетил школьную столовую, где ему предложили на обед следующее меню: борщ из свежей капусты с картофелем, два мясных биточка с гарниром из отварных макарон, чай с сахаром и кусок ржаного хлеба. Используя данные таблиц 2 и 3, а также знания из курса биологии, ответьте на следующие вопросы.

- 1) Какова энергетическая ценность школьного обеда?
- 2) Какое ещё количество углеводов должно быть в пищевом рационе Василия в этот день, чтобы восполнить суточную потребность, если возраст подростка составляет 14 лет?
- 3) Каковы функции углеводов в организме человека? Назовите одну из таких функций.

Содержание верного ответа и указания по оцениванию	Баллы
Правильный ответ должен содержать следующие <u>элементы</u> : 1) энергетическая ценность обеда – 1048,1 ккал или 1048 ккал; 2) необходимо дополнительно 263,9 г углеводов или 264 г углеводов; 3) энергетическая (углеводы являются источником энергии для жизнедеятельности организма); <b>ИЛИ</b> строительная (углеводы входят в состав нуклеиновых кислот); <b>ИЛИ</b> запасная (гликоген запасается в печени и скелетных мышцах); <b>ИЛИ</b> регуляторная (углеводы регулируют осмотическое давление крови); <b>ИЛИ</b> рецепторная (образуют клеточные рецепторы) (Допускаются иные формулировки ответа, не искажающие его смысла.)	
Ответ включает в себя все названные выше элементы, не содержит биологических ошибок	3
Ответ включает в себя два из названных выше элементов и не содержит биологических ошибок, <b>ИЛИ</b> ответ включает в себя три названных выше элемента, но содержит биологические ошибки	2
Ответ включает в себя один из названных выше элементов и не содержит биологических ошибок, <b>ИЛИ</b> ответ включает в себя два из названных выше элементов, но содержит биологические ошибки	1
Ответ неправильный	0
<i>Максимальный балл</i>	3

В соответствии с Порядком проведения государственной итоговой аттестации по образовательным программам основного общего образования (приказ Минпросвещения России и Рособрнадзора от 07.11.2018 № 189/1513, зарегистрирован Минюстом России 10.12.2018 № 52953)

«64. Экзаменационные работы проверяются двумя экспертами. По результатам проверки эксперты независимо друг от друга выставляют баллы за каждый ответ на задания экзаменационной работы... В случае существенного расхождения в баллах, выставленных двумя экспертами, назначается третья проверка. Существенное расхождение в баллах определено в критериях оценивания по соответствующему учебному предмету.

Третий эксперт назначается председателем предметной комиссии из числа экспертов, ранее не проверявших экзаменационную работу.

Третьему эксперту предоставляется информация о баллах, выставленных экспертами, ранее проверявшими экзаменационную работу обучающегося. Баллы, выставленные третьим экспертом, являются окончательными».

Если расхождение между баллами, выставленными двумя экспертами за выполнение любого из заданий 27–30, составляет 2 или более балла, то третий эксперт проверяет только те ответы на задания, которые вызвали столь существенное расхождение.

**Государственная итоговая аттестация по образовательным программам основного общего образования в форме основного государственного экзамена (ОГЭ)**

**Кодификатор проверяемых требований к результатам освоения основной образовательной программы основного общего образования и элементов содержания для проведения основного государственного экзамена по БИОЛОГИИ**

подготовлен Федеральным государственным бюджетным научным учреждением  
«ФЕДЕРАЛЬНЫЙ ИНСТИТУТ ПЕДАГОГИЧЕСКИХ ИЗМЕРЕНИЙ»

**Кодификатор проверяемых требований к результатам освоения основной образовательной программы общего образования и элементов содержания для проведения основного государственного экзамена по БИОЛОГИИ**

Кодификатор проверяемых требований к результатам освоения основной образовательной программы основного общего образования и элементов содержания для проведения основного государственного экзамена по биологии (далее – кодификатор) является одним из документов, определяющих структуру и содержание контрольных измерительных материалов (далее – КИМ). Кодификатор является систематизированным перечнем проверяемых требований к результатам освоения основной образовательной программы основного общего образования и элементов содержания, в котором каждому объекту соответствует определённый код.

Кодификатор показывает преемственность между положениями Федерального государственного образовательного стандарта основного общего образования (приказ Минобрнауки России от 17.12.2010 № 1897 с изменениями и дополнениями) и Федерального компонента государственного стандарта основного общего образования по биологии (приказ Минобрнауки России от 05.03.2004 № 1089 «Об утверждении Федерального компонента государственных стандартов начального общего, основного общего и среднего (полного) общего образования»).

Кодификатор состоит из двух разделов:

– раздел 1. «Перечень проверяемых требований к результатам освоения основной образовательной программы основного общего образования по БИОЛОГИИ»;

– раздел 2. «Перечень элементов содержания, проверяемых на основном государственном экзамене по БИОЛОГИИ».

В кодификатор не включены требования к результатам освоения основной образовательной программы основного общего образования и элементы содержания, достижения которых не может быть проверено в рамках государственной итоговой аттестации.

**Раздел 1. Перечень проверяемых требований к результатам освоения основной образовательной программы основного общего образования по БИОЛОГИИ**

Перечень требований к результатам освоения основной образовательной программы основного общего образования показывает преемственность требований к уровню подготовки выпускников на основе Федерального компонента государственного стандарта основного общего образования по биологии и требований к результатам освоения основной образовательной программы основного общего образования, достижения которых проверяется в ходе ОГЭ.

Код контролируемого требования	Требования к результатам освоения основной образовательной программы основного общего образования, проверяемые заданиями экзаменационной работы	
	Федеральный компонент государственного стандарта основного общего образования	ФГОС ООО
1	<b>ЗНАТЬ/ПОНИМАТЬ</b>	
1.1	<b>признаки биологических объектов:</b>	
1.1.1	живых организмов (растений, животных, грибов и бактерий)	Овладение понятийным аппаратом биологии
1.1.2	генов, хромосом, клеток	
1.1.3	популяций, экосистем, агроэкосистем, биосферы	
1.2	<b>сущность биологических процессов:</b>	
1.2.1	обмен веществ и превращение энергии, питание, дыхание, выделение, транспорт веществ, рост, развитие, размножение, наследственность и изменчивость, регуляция жизнедеятельности организма, раздражимость	Формирование первоначальных систематизированных представлений о биологических объектах, процессах, явлениях, закономерностях, об основных биологических теориях, об экосистемной организации жизни, о взаимосвязи живого и неживого в биосфере, о наследственности и изменчивости; овладение понятийным аппаратом биологии
1.2.2	круговорот веществ и превращение энергии в экосистемах	Формирование первоначальных систематизированных представлений о биологических объектах, процессах, явлениях, закономерностях, об основных биологических теориях, об экосистемной организации жизни, о взаимосвязи живого и неживого в биосфере, о наследственности и изменчивости; овладение понятийным аппаратом

		биологии
1.3	<b>особенности организма человека, его строения, жизнедеятельности, высшей нервной деятельности и поведения</b>	
2	<b>УМЕТЬ</b>	
2.1	<b>объяснять:</b>	
2.1.1	роль биологии в формировании современной естественнонаучной картины мира, в практической деятельности людей и самого ученика	Формирование системы научных знаний о живой природе, закономерностях её развития, исторически быстром сокращении биологического разнообразия в биосфере в результате деятельности человека, для развития современных естественнонаучных представлений о картине мира
2.1.2	родство, общность происхождения и эволюцию растений и животных (на примере сопоставления отдельных групп)	Формирование первоначальных систематизированных представлений о биологических объектах, процессах, явлениях, закономерностях, об основных биологических теориях, об экосистемной организации жизни, о взаимосвязи живого и неживого в биосфере, о наследственности и изменчивости; овладение понятийным аппаратом биологии
2.1.3	роль различных организмов в жизни человека и собственной деятельности	Приобретение опыта использования методов биологической науки и проведения несложных биологических экспериментов для изучения живых организмов и человека, проведения экологического мониторинга в окружающей среде
2.1.4	взаимосвязи организмов и окружающей среды	Формирование представлений в решении проблем



		необходимости рационального природопользования в условиях быстрого изменения экологического качества окружающей среды
2.1.5	роль биологического разнообразия в сохранении биосферы	Формирование представлений в решении проблем необходимости рационального природопользования в условиях быстрого изменения экологического качества окружающей среды
2.1.6	необходимость защиты окружающей среды	Формирование представлений о значении биологических наук в решении проблем необходимости рационального природопользования защиты здоровья людей в условиях быстрого изменения экологического качества окружающей среды
2.1.7	родство человека с млекопитающими животными, место и роль человека в природе	Овладение понятийным аппаратом биологии
2.1.8	взаимосвязи человека и окружающей среды	Формирование основ экологической грамотности: способности оценивать последствия деятельности человека в природе, влияние факторов риска на здоровье человека; выбирать целевые и смысловые установки в своих действиях и поступках по отношению к живой природе, здоровью своему и окружающих, осознание необходимости действий по сохранению биоразнообразия и природных местообитаний видов растений и животных
2.1.9	зависимость собственного здоровья от состояния окружающей среды	Формирование основ экологической грамотности: способности оценивать последствия деятельности

		человека в природе, влияние факторов риска на здоровье человека; выбирать целевые и смысловые установки в своих действиях и поступках по отношению к живой природе, здоровью своему и окружающих, осознание необходимости действий по сохранению биоразнообразия и природных местообитаний видов растений и животных
2.1.10	причины наследственности и изменчивости, проявления наследственных заболеваний, иммунитета у человека	Формирование первоначальных систематизированных представлений о биологических объектах, процессах, явлениях, закономерностях, об основных биологических теориях, об экосистемной организации жизни, о взаимосвязи живого и неживого в биосфере, о наследственности и изменчивости; овладение понятийным аппаратом биологии
2.1.11	роль гормонов и витаминов в организме	Овладение понятийным аппаратом биологии
2.2	<i>изучать</i>	
2.2.1	биологические объекты	Приобретение опыта использования методов биологической науки и проведения несложных биологических экспериментов для изучения живых организмов и человека, проведения экологического мониторинга в окружающей среде;
2.2.2	биологические процессы	Приобретение опыта использования методов биологической науки и проведения несложных биологических экспериментов для изучения живых организмов и человека,

		проведения экологического мониторинга в окружающей среде
2.3	<b>распознавать и описывать:</b>	
2.3.1	на рисунках (фотографиях) основные части и органоиды клетки	Овладение понятийным аппаратом биологии
2.3.2	на рисунках (фотографиях) органы и системы органов человека	
2.3.3	на рисунках (фотографиях) органы цветковых растений, растения разных отделов	
2.3.4	на рисунках (фотографиях) органы и системы органов животных, животных отдельных типов и классов	
2.3.5	культурные растения и домашних животных, съедобные и ядовитые грибы, опасные для человека растения и животные	
2.4	<b>выявлять</b> изменчивость организмов, приспособления организмов к среде обитания, типы взаимодействия разных видов в экосистеме	
2.5	<b>сравнивать</b> биологические объекты (клетки, ткани, органы и системы органов, представителей отдельных систематических групп) и делать выводы на основе сравнения	
2.6	<b>определять</b> принадлежность биологических объектов к определённой систематической группе (классификация)	
2.7	<b>анализировать и оценивать</b> воздействие факторов окружающей среды, факторов риска на здоровье, последствий деятельности человека в природе, влияние	Формирование основ экологической грамотности: способности оценивать последствия деятельности человека в природе, влияние

	человека в экосистемах	факторов риска на здоровье человека; выбирать целевые и смысловые установки в своих действиях и поступках по отношению к живой природе, здоровью своему и окружающих, осознание необходимости действий по сохранению биоразнообразия и природных местообитаний видов растений и животных
2.8	<b>проводить самостоятельный поиск биологической информации:</b> находить в научно-популярном тексте необходимую биологическую информацию о живых организмах, процессах и явлениях; работать с терминами и понятиями	
3	<b>ИСПОЛЬЗОВАТЬ ПРИОБРЕТЁННЫЕ ЗНАНИЯ И УМЕНИЯ В ПРАКТИЧЕСКОЙ ДЕЯТЕЛЬНОСТИ И ПОВСЕДНЕВНОЙ ЖИЗНИ</b>	
3.1	для соблюдения мер профилактики: заболеваний, вызываемых растениями, животными, бактериями, грибами и вирусами; травматизма; стрессов; ВИЧ-инфекции; вредных привычек (курение, алкоголизм, наркомания); нарушения осанки, зрения, слуха; инфекционных и простудных заболеваний	Формирование представлений о значении биологических наук в решении проблем необходимости рационального природопользования защиты здоровья людей в условиях быстрого изменения экологического качества окружающей среды
3.2	оказания первой помощи при отравлениях ядовитыми грибами, растениями; укусах животных; при простудных заболеваниях; ожогах; обморожениях; травмах;	Освоение приёмов оказания первой помощи, рациональной организации труда и отдыха, выращивания и размножения культурных растений и домашних животных, ухода за

	спасении утопающего	ними
3.3	рациональной организации труда и отдыха, соблюдения правил поведения в окружающей среде	Освоение приёмов оказания первой помощи, рациональной организации труда и отдыха, выращивания и размножения культурных растений и домашних животных, ухода за ними
3.4	выращивания и размножения культурных растений и домашних животных, ухода за ними	Освоение приёмов оказания первой помощи, рациональной организации труда и отдыха, выращивания и размножения культурных растений и домашних животных, ухода за ними

## Раздел 2. Перечень элементов содержания, проверяемых на основном государственном экзамене по БИОЛОГИИ

Перечень элементов содержания, проверяемых по ОГЭ по биологии, демонстрирует преемственность содержания раздела «Обязательный минимум содержания основных образовательных программ» Федерального компонента государственного стандарта основного общего образования по биологии и Примерной основной образовательной программы основного общего образования (одобрена решением Федерального учебно-методического объединения по общему образованию (протокол от 08.04.2015 № 1/15)).

Код раз-дела	Код контролируемого элемента	Элементы содержания, проверяемые заданиями экзаменационной работы	
		Федеральный компонент государственного стандарта основного общего образования	Наличие позиций ФК ГОС в ПОП ООО
1	<b>Биология как наука. Методы биологии</b>		
	1.1	Роль биологии в формировании современной естественнонаучной картины мира, в практической деятельности людей. Методы изучения живых объектов.	Биология как наука. Методы изучения живых организмов. Научные методы изучения, применяемые в биологии: наблюдение, описание, эксперимент. Гипотеза, модель, теория, их значение

		Биологический эксперимент. Наблюдение, описание, измерение биологических объектов	и использование в повседневной жизни. Биологические науки. Роль биологии в формировании естественно-научной картины мира.
2	<b>Признаки живых организмов</b>		
	2.1	Клеточное строение организмов как доказательство их родства, единства живой природы. Гены и хромосомы. Нарушение в строении и функционировании клеток – одна из причин заболеваний организмов. Вирусы – неклеточные формы жизни	Клеточное строение организмов как доказательство их родства, единства живой природы. Многообразие клеток. Хромосомы и гены. Клеточные и неклеточные формы жизни. Вирусы
	2.2	Признаки организмов. Наследственность и изменчивость – свойства организмов. Одноклеточные и многоклеточные организмы. Ткани, органы, системы органов растений и животных, выявление изменчивости организмов. Приёмы выращивания и размножения растений и домашних животных, ухода за ними	Одноклеточные и многоклеточные организмы. Наследственность и изменчивость – свойства организмов. Наследственная и ненаследственная изменчивость. Растительные ткани и органы растений. Ткани, органы и системы органов организма человека, их строение и функции. Приёмы выращивания и размножения растений и ухода за ними. <i>Домашние птицы, приёмы выращивания и ухода за птицами.</i> Приёмы выращивания и ухода за домашними млекопитающими
3	<b>Система, многообразие и эволюция живой природы</b>		
	3.1	Царство Бактерии. Роль бактерий в природе, жизни человека и собственной деятельности. Бактерии –	Бактерии, их строение и жизнедеятельность. Роль бактерий в природе, жизни человека. Меры

	возбудители заболеваний растений, животных, человека	профилактики заболеваний, вызываемых бактериями
3.2	Царство Грибы. Роль грибов в природе, жизни человека и собственной деятельности. Роль лишайников в природе, жизни человека и собственной деятельности	Отличительные особенности грибов. Многообразие грибов. Роль грибов в природе, жизни человека. Лишайники, их роль в природе и жизни человека
3.3	Царство Растения. Роль растений в природе, жизни человека и собственной деятельности	Многообразие и значение растений в природе и жизни человека. Растение – целостный организм (биосистема). Водоросли – низшие растения. Высшие споровые растения. Отдел Голосеменные. Отдел Покрытосеменные (Цветковые)
3.4	Царство Животные. Роль животных в природе, жизни человека и собственной деятельности	Многообразие и классификация животных. Значение простейших в природе и жизни человека. Тип Моллюски и их значение в природе и жизни человека. Общая характеристика типа Членистоногие и их значение в природе и жизни человека. Значение рыб в природе и жизни человека. Рыбоводство и охрана рыбных запасов. Значение земноводных в природе и жизни человека. Значение пресмыкающихся в природе и жизни человека. Значение птиц в природе и жизни человека. Птицеводство. Происхождение и значение млекопитающих
3.5	Учение об эволюции органического мира. Ч. Дарвин –	Ч. Дарвин – основоположник учения об эволюции. Основные

	основоположник учения об эволюции. Усложнение растений и животных в процессе эволюции. Биологическое разнообразие как основа устойчивости биосферы и результата эволюции	движущие силы эволюции в природе. Результаты эволюции: многообразие видов, приспособленность организмов к среде обитания
<b>4</b>	<b>Человек и его здоровье</b>	
4.1	Сходство человека с животными и отличие от них. Общий план строения и процессы жизнедеятельности человека	Место человека в системе животного мира. Сходства и различия человека и животных. Особенности человека как социального существа
4.2	Нейро-гуморальная регуляция процессов жизнедеятельности организма. Нервная система. Рефлекс. Рефлекторная дуга. Железы внутренней секреции. Гормоны	Регуляция функций организма, способы регуляции. Механизмы регуляции функций. Нервная система: центральная и периферическая, соматическая и вегетативная. Рефлекторный принцип работы нервной системы. Рефлекторная дуга. Эндокринная система. Гормоны, их роль в регуляции физиологических функций организма
4.3	Питание. Система пищеварения. Роль ферментов в пищеварении	Питание. Пищеварение. Пищеварительная система: строение и функции. Ферменты, роль ферментов в пищеварении
4.4	Дыхание. Система дыхания	Дыхательная система: строение и функции
4.5	Внутренняя среда организма: кровь, лимфа, тканевая жидкость. Группы крови. Иммуитет	Функции крови и лимфы. Поддержание постоянства внутренней среды. Состав крови. Группы крови. Иммуитет
4.6	Транспорт веществ.	Кровеносная и

	Кровеносная и лимфатическая системы	лимфатическая системы: строение, функции
4.7	Обмен веществ и превращение энергии в организме человека. Витамины	Обмен веществ и превращение энергии. Две стороны обмена веществ и энергии. Витамины
4.8	Выделение продуктов жизнедеятельности. Система выделения	Мочевыделительная система: строение и функции
4.9	Покровы тела и их функции	Покровы тела. Роль кожи в процессах терморегуляции. Поддержание температуры тела
4.10	Размножение и развитие организма человека. Наследование признаков у человека. Наследственные болезни, их причины и предупреждение	Половая система: строение и функции. Наследование признаков у человека. Наследственные болезни, их причины и предупреждение
4.11	Опора и движение. Опорно-двигательный аппарат	Опорно-двигательная система: строение, функции. Скелет человека. Мышцы и их функции
4.12	Органы чувств, их роль в жизни человека	Органы чувств и их значение в жизни человека. Сенсорные системы, их строение и функции
4.13	Психология и поведение человека. Высшая нервная деятельность. Условные и безусловные рефлексы, их биологическое значение. Познавательная деятельность мозга. Сон, его значение. Биологическая природа и социальная сущность человека. Сознание человека. Память, эмоции, речь, мышление. Особенности психики человека: осмысленность восприятия, словесно-логическое мышление,	Высшая нервная деятельность человека. Безусловные и условные рефлексы, их значение. Познавательная деятельность мозга. Эмоции, память, мышление, речь. Сон и бодрствование. Значение сна. Предупреждение нарушений сна. Особенности психики человека: осмысленность восприятия, словесно-логическое мышление, способность к накоплению и передаче из поколения в

		способность к накоплению и передаче из поколения в поколение информации. Значение интеллектуальных, творческих и эстетических потребностей. Цели и мотивы деятельности. Индивидуальные особенности личности: способности, темперамент, характер, одарённость. Психология и поведение человека. Цели и мотивы деятельности. Роль обучения и воспитания в развитии психики и поведения человека
4.14	Соблюдение санитарно-гигиенических норм и правил здорового образа жизни. Переливание крови. Профилактические прививки. Уход за кожей, волосами, ногтями. Укрепление здоровья: аутотренинг, закаливание, двигательная активность, сбалансированное питание, рациональная организация труда и отдыха, чистый воздух. Факторы риска: несбалансированное питание, гиподинамия, курение, употребление алкоголя и наркотиков, стресс, вредные условия труда и др. Инфекционные заболевания: грипп, гепатит, ВИЧ-инфекция и другие инфекционные заболевания (кишечные, мочеполовые, органов дыхания). Предупреждение инфекционных заболеваний. Профилактика: отравлений, вызываемых ядовитыми	Здоровье человека. Соблюдение санитарно-гигиенических норм и правил здорового образа жизни. Укрепление здоровья: аутотренинг, закаливание, двигательная активность, сбалансированное питание. Влияние физических упражнений на органы и системы органов. Защитно-приспособительные реакции организма. Факторы, нарушающие здоровье (гиподинамия, курение, употребление алкоголя, несбалансированное питание, стресс). Значение физических упражнений для правильного формирования скелета и мышц. Гиподинамия. Профилактика травматизма. Меры профилактики заболеваний, вызываемых растениями. Гигиена сердечно-сосудистой системы. Профилактика сердечно-сосудистых заболеваний. Гигиена дыхания. Вред табакоку-

	растениями и грибами; заболеваний, вызываемых паразитическими животными и животными переносчиками возбудителей болезней; травматизма; ожогов; обморожений; нарушения зрения и слуха	рения. Предупреждение распространения инфекционных заболеваний и соблюдение мер профилактики для защиты собственного организма. Гигиена питания, предотвращение желудочно-кишечных заболеваний. Меры профилактики заболеваний, вызываемых грибами. Пути заражения человека и животных паразитическими простейшими. Меры профилактики заболеваний, вызываемых одноклеточными животными. Пути заражения человека и животных паразитическими червями. Меры профилактики заражения. Уход за кожей, волосами, ногтями. Заболевания органов мочевыделительной системы и меры их предупреждения. Инфекции, передающиеся половым путем, и их профилактика. ВИЧ, профилактика СПИДа. Нарушения зрения и их предупреждение. Гигиена слуха
4.15	Приёмы оказания первой доврачебной помощи: при отравлении некачественными продуктами, ядовитыми грибами и растениями, угарным газом; спасении утопающего; травмах опорно-двигательного аппарата; ожогах; обморожениях; повреждении зрения	Меры предосторожности и первая помощь при укусах животных. Виды кровотечений, приёмы оказания первой помощи при кровотечениях. Первая помощь при остановке дыхания, спасении утопающего, отравлении угарным газом. Приёмы оказания первой помощи при травмах, ожогах, обморожениях и их профилактика. Первая

			помощь при травмах опорно-двигательного аппарата. Первая помощь при отравлении грибами
<b>5</b>	<b>Взаимосвязи организмов и окружающей среды</b>		
5.1	Влияние экологических факторов на организмы. Приспособления организмов к различным экологическим факторам. Популяция. Взаимодействия разных видов (конкуренция, хищничество, симбиоз, паразитизм). Сезонные изменения в живой природе	Экология, экологические факторы, их влияние на организмы. Среда обитания. Популяция как форма существования вида в природе. Взаимодействие популяций разных видов в экосистеме. Сезонные явления в жизни растений. Сезонные явления в жизни животных	
5.2	Экосистемная организация живой природы. Роль производителей, потребителей и разрушителей органических веществ в экосистемах и круговороте веществ в природе. Пищевые связи в экосистеме. Цепи питания. Особенности агроэкосистем	Экосистемная организация живой природы. Экосистема, её основные компоненты. Структура экосистемы. Пищевые связи в экосистеме. Взаимодействие популяций разных видов в экосистеме. Естественная экосистема (биогеоценоз). Агроэкосистема (агроценоз) как искусственное сообщество организмов	
5.3	Биосфера – глобальная экосистема. Роль человека в биосфере. Экологические проблемы, их влияние на собственную жизнь и жизнь других людей. Последствия деятельности человека в экосистемах, влияние собственных поступков на живые организмы и экосистемы	Биосфера–глобальная экосистема. В. И. Вернадский – основоположник учения о биосфере. Структура биосферы. Распространение и роль живого вещества в биосфере. Значение охраны биосферы для сохранения жизни на Земле. Биологическое разнообразие как основа устойчивости биосферы. Современные экологические проблемы,	

			их влияние на собственную жизнь и жизнь окружающих людей. Последствия деятельности человека в экосистемах
--	--	--	---

**Государственная итоговая аттестация по образовательным программам основного общего образования в форме основного государственного экзамена (ОГЭ)**

**Спецификация  
контрольных измерительных материалов для проведения  
в 2020 году основного государственного экзамена  
по БИОЛОГИИ**

подготовлена Федеральным государственным бюджетным  
научным учреждением  
«ФЕДЕРАЛЬНЫЙ ИНСТИТУТ ПЕДАГОГИЧЕСКИХ ИЗМЕРЕНИЙ»

**Спецификация  
контрольных измерительных материалов для проведения  
в 2020 году основного государственного экзамена  
по БИОЛОГИИ**

**1. Назначение контрольных измерительных материалов (КИМ)  
ОГЭ**

Основной государственный экзамен (ОГЭ) представляет собой форму государственной итоговой аттестации, проводимой в целях определения соответствия результатов освоения обучающимися основных образовательных программ основного общего образования соответствующим требованиям федерального государственного образовательного стандарта. Для указанных целей используются контрольные измерительные материалы (КИМ), представляющие собой комплексы заданий стандартизированной формы.

ОГЭ проводится в соответствии с Федеральным законом «Об образовании в Российской Федерации» от 29.12.2012 № 273-ФЗ и Порядком проведения государственной итоговой аттестации по образовательным программам основного общего образования, утверждённым приказом Минпросвещения России и Рособнадзора от 07.11.2018 № 189/1513.

**2. Документы, определяющие содержание КИМ ОГЭ**

Содержание КИМ определяется на основе Федерального государственного образовательного стандарта основного общего образования (приказ Минобрнауки России от 17.12.2010 №1897) с учётом Примерной основной образовательной программы основного общего образования (одобрена решением Федерального учебно-методического объединения по общему образованию (протокол от 08.04.2015 № 1/15)).

В КИМ обеспечена преемственность проверяемого содержания с Федеральным компонентом государственного стандарта основного общего образования по биологии (приказ Минобрнауки России от 05.03.2004 № 1089 «Об утверждении Федерального компонента государственных образовательных стандартов начального общего, основного общего и среднего (полного) общего образования»).

**3. Подходы к выбору содержания, разработке структуры КИМ  
ОГЭ**

Основой разработки экзаменационных вариантов являются требования к результатам освоения основной образовательной программы и содержание биологического образования, которые определены Федеральным государственным образовательным стандартом и примерной основной образовательной программой основного общего образования и отражено в учебниках по биологии, рекомендуемых Министерством просвещения РФ



к использованию при реализации имеющих государственную аккредитацию образовательных программ основного общего образования.

Экзаменационные материалы направлены на проверку освоения выпускниками важнейших видов учебно-познавательной деятельности на базе предметных знаний, представленных в разделах курса биологии «Растения. Бактерии. Грибы. Лишайники», «Животные», «Человек и его здоровье», «Общие закономерности жизни», предметных умений и видов познавательной деятельности. Это позволяет охватить проверкой основное содержание курса, обеспечить валидность контрольных измерительных материалов.

В экзаменационных материалах высока доля заданий по разделу «Человек и его здоровье», поскольку именно в нём рассматриваются актуальные для обучающихся вопросы сохранения и укрепления физического и психического здоровья человека.

#### 4. Связь экзаменационной модели ОГЭ с КИМ ЕГЭ

Данная связь проявляется в преемственности проверяемых умений и видов познавательной деятельности, тематического содержания учебного предмета.

Модель КИМ ОГЭ, как и КИМ ЕГЭ, состоит из двух частей, содержащих задания разных уровней сложности. В обеих моделях используются схожие типы заданий. Реализован единый подход к определению уровней сложности заданий и разработке системы оценивания.

#### 5. Характеристика структуры и содержания КИМ ОГЭ

Каждый вариант экзаменационной работы включает в себя 30 заданий и состоит из двух частей.

Часть 1 содержит 26 заданий с кратким ответом: 18 заданий базового уровня сложности с ответом в виде одной цифры, соответствующей номеру правильного ответа; 8 заданий повышенного уровня сложности, из которых 1 задание с ответом в виде одного слова или словосочетания, 3 задания с выбором нескольких верных ответов, 3 задания на установление соответствия элементов двух информационных рядов (в том числе задание на включение пропущенных в тексте терминов и понятий, на соотнесение морфологических признаков организма или его отдельных органов с предложенными моделями по заданному алгоритму), 1 задание на определение последовательности биологических процессов, явлений, объектов.

Часть 2 содержит 4 задания с развёрнутым ответом: 1 задание повышенного уровня сложности на работу с текстом, предполагающее использование информации из текста контекстных знаний для ответа на поставленные вопросы; 3 задания высокого уровня сложности: 1 задание на анализ статистических данных, представленных в табличной форме, 2 задания на применение биологических знаний и умений для решения практических задач.

Распределение заданий экзаменационной работы по частям и типам заданий с учётом максимального первичного балла каждой части и работы в целом приводится в таблице 1.

Таблица 1

Распределение заданий по частям экзаменационной работы

№	Часть работы	Количество заданий	Максимальный первичный балл	Процент максимального первичного балла за выполнение заданий данной части от максимального первичного балла за всю работу, равного 45	Тип заданий
1	Часть 1	26	34	76	Задания с кратким ответом
2	Часть 2	4	11	24	Задания с развёрнутым ответом
	Итого	30	45	100	

#### 6. Распределение заданий КИМ ОГЭ по содержанию, проверяемым умениям и способам деятельности

Экзаменационная работа ОГЭ включает в себя пять содержательных блоков.

**Первый блок «Биология как наука»** включает в себя задания, контролирующие знания: о роли биологии в формировании современной естественнонаучной картины мира, в практической деятельности людей; методах изучения живых объектов (наблюдение, описание, измерение, эксперимент).

**Второй блок «Признаки живых организмов»** представлен заданиями, проверяющими знания: о строении, функциях и многообразии клеток, тканей, органов и систем органов; признаках живых организмов, наследственности и изменчивости; способах размножения, приёмах выращивания растений и разведения животных.

**Третий блок «Система, многообразие и эволюция живой природы»** содержит задания, контролирующие знания: о важнейших отличительных признаках основных царств живой природы (Животные, Растения, Грибы, Бактерии); классификации растений и животных (отдел (тип), класс); об усложнении растений и животных в процессе эволюции; о биоразнообразии как основе устойчивости биосферы и результате эволюции.

**Четвёртый блок «Человек и его здоровье»** содержит задания, выявляющие знания: о происхождении человека и его биосоциальной природе, высшей нервной деятельности и об особенностях поведения человека; строении и жизнедеятельности органов и систем органов (нервной, эндокринной, кровеносной, лимфатической, дыхания, выделения,

пищеварения, половой, опоры и движения); внутренней среде, об иммунитете, органах чувств, о нейрогуморальной регуляции процессов жизнедеятельности; санитарно-гигиенических нормах и правилах здорового образа жизни.

**Пятый блок «Взаимосвязи организмов и окружающей среды»** содержит задания, проверяющие знания: о системной организации живой природы, об экологических факторах, о взаимодействии разных видов в природе; об естественных и искусственных экосистемах и о входящих в них компонентах, пищевых связях; об экологических проблемах, их влиянии на собственную жизнь и жизнь других людей; о правилах поведения в окружающей среде и способах сохранения равновесия в ней.

Распределение заданий по основным содержательным разделам курса биологии представлено в таблице 2.

*Таблица 2  
Распределение заданий  
по основным содержательным блокам курса биологии*

Раздел курса биологии, включённый в экзаменационную работу	Количество заданий
	Вся работа
Биология как наука. Методы биологии	2–3
Признаки живых организмов	6–7
Система, многообразие и эволюция живой природы	6–7
Организм человека и его здоровье	11–12
Взаимосвязи организмов и окружающей среды	2
Итого	30

Распределение заданий экзаменационной работы по проверяемым умениям и способам действий представлено в таблице 3.

*Таблица 3  
Распределение заданий экзаменационной по проверяемым умениям и способам действий*

Основные умения и способы действий	Количество заданий	Максимальный первичный балл	Процент максимального первичного балла за выполнение заданий данного вида учебной деятельности от максимального первичного балла за всю работу, равного 45
1. Объяснять роль биологии в формировании современной естественнонаучной картины мира	1	1	2,2

2. Распознавать: основные части клетки; грибы; органы цветковых растений, растений разных отделов; органы и системы органов животных, а также животных разных таксонов	2	2	4,4
3. Описывать биологические объекты	2	4	8,9
4. Объяснять взаимосвязи организмов и окружающей среды	4	5	11,1
5. Сравнить биологические объекты: клетки, ткани, органы и системы органов и организмы разных таксонов	4	5	11,1
6. Знать особенности организма человека, его строения	3	3	6,7
7. Распознавать на рисунках (фотографиях) органы и системы органов человека	2	2	4,4
8. Использовать приобретённые знания и умения в практической деятельности и для соблюдения мер профилактики	5	8	17,8
9. Использовать приобретённые знания и умения в практической деятельности для оказания первой помощи	2	2	4,4
10. Описывать и объяснять результаты эксперимента и данные таблицы	1	3	6,7
11. Анализировать и оценивать воздействие факторов окружающей среды	3	7	15,6
12. Проводить самостоятельный поиск биологической информации	1	3	6,7
Итого	30	45	100%

**7. Распределение заданий КИМ ОГЭ по уровням сложности**

Экзаменационная работа предусматривает проверку результатов усвоения знаний и овладения умениями выпускников на разных уровнях: воспроизводить знания; применять знания и умения в знакомой, изменённой и новой ситуациях.

Воспроизведение знаний предполагает оперирование следующими учебными умениями: узнавать типичные биологические объекты, процессы, явления; давать определения основных биологических понятий; пользоваться биологическими терминами и понятиями. Задания на воспроизведение обеспечивают контроль усвоения основных вопросов курса биологии на базовом уровне.

Применение знаний в знакомой ситуации требует овладения более сложными умениями: объяснять, определять, сравнивать, классифицировать, распознавать и описывать типичные биологические объекты, процессы и явления. Задания, контролируемые данные умения, направлены на выявление уровня усвоения основного содержания по всем пяти блокам стандарта основной школы по биологии.

Применение знаний в изменённой ситуации предусматривает оперирование экзаменуемыми такими учебными умениями, как научное обоснование биологических процессов и явлений, установление причинно-следственных связей, анализ, обобщение, формулирование выводов. Задания, контролируемые степень овладения данными умениями, представлены в части 2 работы.

Применение знаний в новой ситуации предполагает оперирование умениями использовать приобретённые знания в практической деятельности, систематизировать и интегрировать знания, оценивать и прогнозировать биологические процессы, решать практические и творческие задачи. Задания подобного типа проверяют сформированность у экзаменуемых естественнонаучного мировоззрения, биологической грамотности, творческого мышления.

В работе используются задания базового, повышенного и высокого уровней сложности. Задания базового уровня составляют 40% от общего количества заданий экзаменационного теста; повышенного – 42%; высокого – 18%.

Распределение заданий экзаменационной работы по уровням сложности приводится в таблице 4.

Таблица 4

Распределение заданий экзаменационной работы по уровням сложности

Уровень сложности заданий	Количество заданий	Максимальный первичный балл	Процент максимального первичного балла за выполнение заданий данного уровня сложности от максимального первичного балла за всю работу, равного 45
Базовый	18	18	40
Повышенный	9	19	42
Высокий	3	8	18
Итого	30	45	100

**8. Продолжительность ОГЭ по биологии**

На выполнение экзаменационной работы отводится 3 часа (180 минут).

**9. Дополнительные материалы и оборудование**

Перечень дополнительных материалов и оборудования, пользование которыми разрешено на ОГЭ, утверждается приказом Минпросвещения России и Рособнадзора. На экзамене по биологии разрешается использовать линейку и непрограммируемый калькулятор.

**10. Система оценивания выполнения отдельных заданий и экзаменационной работы в целом**

Верный ответ на задания 1–19 с кратким ответом в виде слова (словосочетания) или цифры оценивается в 1 балл.

За верный ответ на каждое из заданий 20–25 выставляется 2 балла.

За ответ на задание 20 выставляется 1 балл, если в ответе указана одна любая цифра, представленная в эталоне ответа, и 0 баллов, если в ответе нет таких цифр. Если экзаменуемый указывает в ответе больше символов, чем в правильном ответе, то за каждый лишний символ снимается 1 балл (до 0 баллов включительно).

За ответ на задания 21 и 22 выставляется 1 балл, если в ответе указаны две любые цифры, представленные в эталоне ответа, и 0 баллов, если верно, указана одна цифра или не указано ни одной. Если экзаменуемый указывает в ответе больше символов, чем в правильном ответе, то за каждый лишний символ снимается 1 балл (до 0 баллов включительно).

За ответ на задания 23 и 25 выставляется 1 балл, если допущена одна ошибка, и 0 баллов, если допущено две и более ошибки.

За ответ на задание 24 выставляется 1 балл, если на любых двух позициях ответа записан не тот символ, который представлен в эталоне ответа. Если ошибок больше, то ставится 0 баллов.

За полный верный ответ на задание 26 выставляется 3 балла; если на любой одной позиции ответа записан не тот символ, который представлен в эталоне ответа, выставляется 2 балла; если на любых двух позициях ответа

записаны не те символы, которые представлены в эталоне ответа, выставляется 1 балл; во всех других случаях – 0 баллов.

Задания 27–30 оцениваются в зависимости от полноты и правильности ответа.

Максимальный первичный балл за выполнение всей работы – 45.

В соответствии с Порядком проведения государственной итоговой аттестации по образовательным программам основного общего образования (приказ Минпросвещения России и Рособнадзора от 07.11.2018 № 189/1513, зарегистрирован Минюстом России 10.12.2018 № 52953)

«64. Экзаменационные работы проверяются двумя экспертами. По результатам проверки эксперты независимо друг от друга выставляют баллы за каждый ответ на задания экзаменационной работы... В случае существенного расхождения в баллах, выставленных двумя экспертами, назначается третья проверка. Существенное расхождение в баллах определено в критериях оценивания по соответствующему учебному предмету.

Третий эксперт назначается председателем предметной комиссии из числа экспертов, ранее не проверявших экзаменационную работу.

Третьему эксперту предоставляется информация о баллах, выставленных экспертами, ранее проверявшими экзаменационную работу обучающегося. Баллы, выставленные третьим экспертом, являются окончательными».

Если расхождение между баллами, выставленными двумя экспертами за выполнение любого из заданий 27–30, составляет 2 или более балла, то третий эксперт проверяет только те ответы на задания, которые вызвали столь существенное расхождение.

На основе баллов, выставленных за выполнение всех заданий работы, подсчитывается общий балл, который переводится в отметку по пятибалльной шкале.

### 11. Изменения в КИМ 2020 года по сравнению с 2019 годом

Произошло сокращение количества заданий с 32 до 30, максимальный первичный балл уменьшился с 46 до 45. Отдельные изменения коснулись следующих позиций: в части 1 работы включены новые модели заданий в линиях 1 и 20, в части 2 добавлена новая линия заданий (27), линия 30 (задания 31 и 32 в модели 2019 г.) претерпела значительную переработку.

## Обобщённый план варианта КИМ для ГИА выпускников IX классов по БИОЛОГИИ

Уровни сложности заданий: Б – базовый; П – повышенный; В – высокий.

№	Проверяемые элементы содержания	Коды проверяемых элементов содержания	Коды требований к уровню подготовки выпускников	Уровень сложности задания	Максимальный балл за выполнение задания	Примерное время выполнения задания (мин.)
<b>Часть 1</b>						
1	Знать признаки биологических объектов на разных уровнях организации живого	2.2	1.1.1	П	1	3
2	Клеточное строение организмов как доказательство их родства, единства живой природы	2.1	1.1.2, 2.3.1, 2.5	Б	1	1,5
3	Царство Бактерии. Царство Грибы	3.1, 3.2	1.1.1, 1.2.1, 2.3.3, 2.3.4, 2.3.5	Б	1	1,5
4	Царство Растения	3.3	2.3.3, 2.3.5, 2.6, 3.4	Б	1	1,5
5	Царство Животные	3.4	2.3.4, 2.3.5, 2.5, 2.6, 3.4	Б	1	1,5
6	Общий план строения и процессы жизнедеятельности. Сходство человека с животными и отличие от них. Размножение и развитие организма человека	4.1, 4.10	2.1.7, 1.3, 2.1.10, 2.3.2, 2.5	Б	1	1,5
7	Нейрогуморальная регуляция процессов жизнедеятельности организма	4.2	1.3, 2.1.11, 2.3.2	Б	1	1,5
8	Опора и движение	4.11	1.3, 2.3.2	Б	1	1,5
9	Внутренняя среда	4.5	1.3, 2.1.10, 2.3.2	Б	1	1,5
10	Транспорт веществ	4.6	1.2.1, 1.3, 2.3.2	Б	1	1,5
11	Питание. Дыхание	4.3, 4.4	1.2.1, 1.3, 2.3.2	Б	1	1,5
12	Обмен веществ. Выделение. Покровы тела	4.7–4.9	1.2.1, 1.3, 2.3.2	Б	1	1,5
13	Органы чувств	4.12	1.3, 2.3.2	Б	1	1,5

14	Психология и поведение человека	4.13	1.3, 2.3.2	Б	1	1,5
15	Соблюдение санитарно-гигиенических норм и правил здорового образа жизни. Приёмы оказания первой доврачебной помощи	4.14, 4.15	2.1.9, 2.7, 3.13.2	Б	1	1,5
16	Влияние экологических факторов на организмы	5.1	1.1.3, 1.2.2, 2.1.4, 2.1.9, 2.4	Б	1	1,5
17	Экосистемная организация живой природы. Биосфера. Учение об эволюции органического мира	3.5, 5.2, 5.3	1.1.3, 1.2.2, 2.1.1, 2.1.2, 2.1.5, 2.1.6, 2.7	Б	1	1,5
18	Использовать понятийный аппарат и символический язык биологии; грамотно применять научные термины, понятия, теории, законы для объяснения наблюдаемых биологических объектов, явлений и процессов	2, 3, 4, 5	2.5, 2.6, 2.7	Б	1	1,5
19	Обладать приёмами работы по критическому анализу полученной информации и пользоваться простейшими способами оценки её достоверности	2, 3, 4, 5	1.1, 1.2, 1.3, 2.5, 2.6	Б	1	1,5
20	Обладать приёмами работы с информацией биологического содержания, представленной в графической форме	2, 3, 4, 5	2.1, 2.2, 2.3, 2.5, 2.6	П	2	3
21	Умение проводить множественный выбор	2, 3, 4, 5	2.4, 2.5, 2.6, 2.7	П	2	6
22	Умение проводить множественный выбор	2, 3, 4, 5	2.4, 2.5, 2.6, 2.7	П	2	6
23	Знать признаки биологических объектов на разных уровнях организации живого. Умение устанавливать соответствие	1, 2, 3, 4, 5	2.5, 2.6	П	2	6
24	Умение определять последовательности биологических процессов, явлений, объектов	2, 3, 4, 5	2.2, 2.2.2, 2.6, 2.7	П	2	6
25	Умение включать в биологический текст пропущенные термины и понятия из числа предложенных	1, 2, 3, 4, 5	2.2.2, 2.5, 2.6, 2.8	П	2	8

26	Умение соотносить морфологические признаки организма или его отдельных органов с предложенными моделями по заданному алгоритму	3.3, 3.4, 4.1	2.2.2, 2.3.2, 2.3.3, 2.3.4, 2.6	П	3	8
<b>Часть 2</b>						
27	Объяснять роль биологии в формировании современной естественнонаучной картины мира, в практической деятельности людей. Распознавать и описывать на рисунках (изображениях) признаки строения биологических объектов на разных уровнях организации живого	1, 2, 3, 4	2.1.1, 2.1.8, 2.1.9, 2.3, 2.7, 3	В	2	15
28	Умение работать с текстом биологического содержания (понимать, сравнивать, обобщать)	1, 2, 3, 4, 5	2.8	П	3	21
29	Умение работать со статистическими данными, представленными в табличной форме	1, 2, 3, 4, 5	2.1, 2.2, 2.3, 2.5, 2.7, 2.8, 3.1, 3.2, 3.3	В	3	20
30	Решать учебные задачи биологического содержания: проводить качественные и количественные расчёты, делать выводы на основании полученных результатов. Умение обосновывать необходимость рационального и здорового питания	4.1–4.15	2.1.9, 2.7, 2.8, 3.3	В	3	22
<p>Всего заданий – <b>30</b>; из них по типу заданий: с записью краткого ответа – <b>26</b>; с развёрнутым ответом – <b>4</b>; по уровню сложности: Б – <b>18</b>; П – <b>9</b>; В – <b>3</b>. Максимальный балл – <b>45</b>. Общее время выполнения работы – <b>180 минут</b>.</p>						